
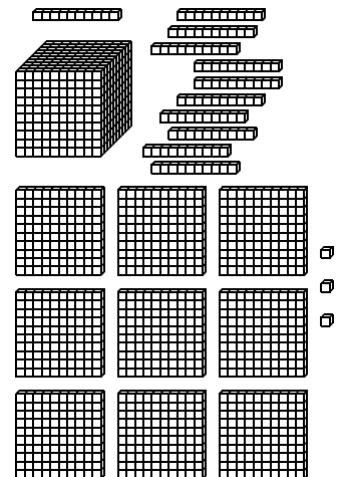
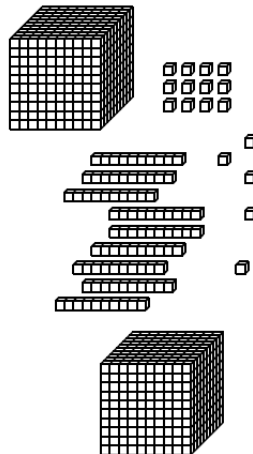

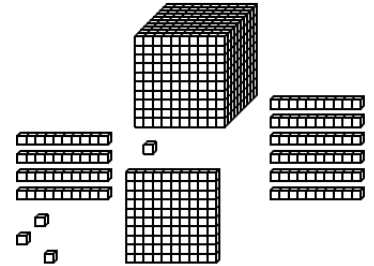
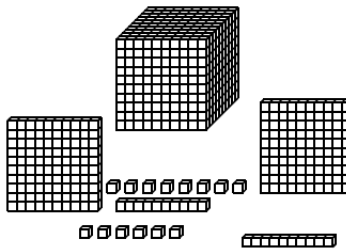
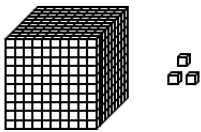
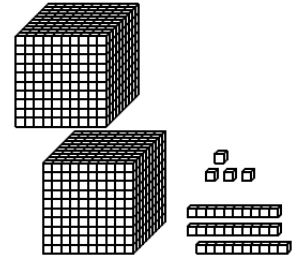
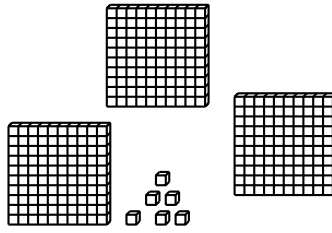
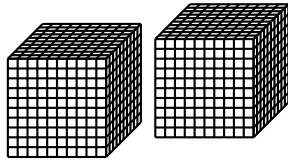


L'unité est



Quelle est l'écriture décimale des nombres représentés sur les cartes suivantes ?



Réponse : 2,034

Réponse : 2,306

Réponse : 1,204

Remarque :
« 10 centièmes » est égal à « 1 dixième ».

Réponse : 1,234

Remarque :
« 14 millièmes » est égal à « 1 centième et 4 millièmes ».

Réponse : 1,003

Réponse : 2,013

Remarque :
« 11 centièmes » est égal à « 1 dixième et 1 centième ».

« 10 dixièmes » est égal à « 1 unité ».

Réponse : 2,107

Remarque :
« 17 millièmes » est égal à « 1 centième et 7 millièmes ».

« 10 centièmes » est égal à « 1 dixième ».

Réponse : 2,133

Remarque :
« 10 dixièmes » est égal à « 1 unité ».