

Activité : j'identifie des paysages de New –York et de sa banlieue

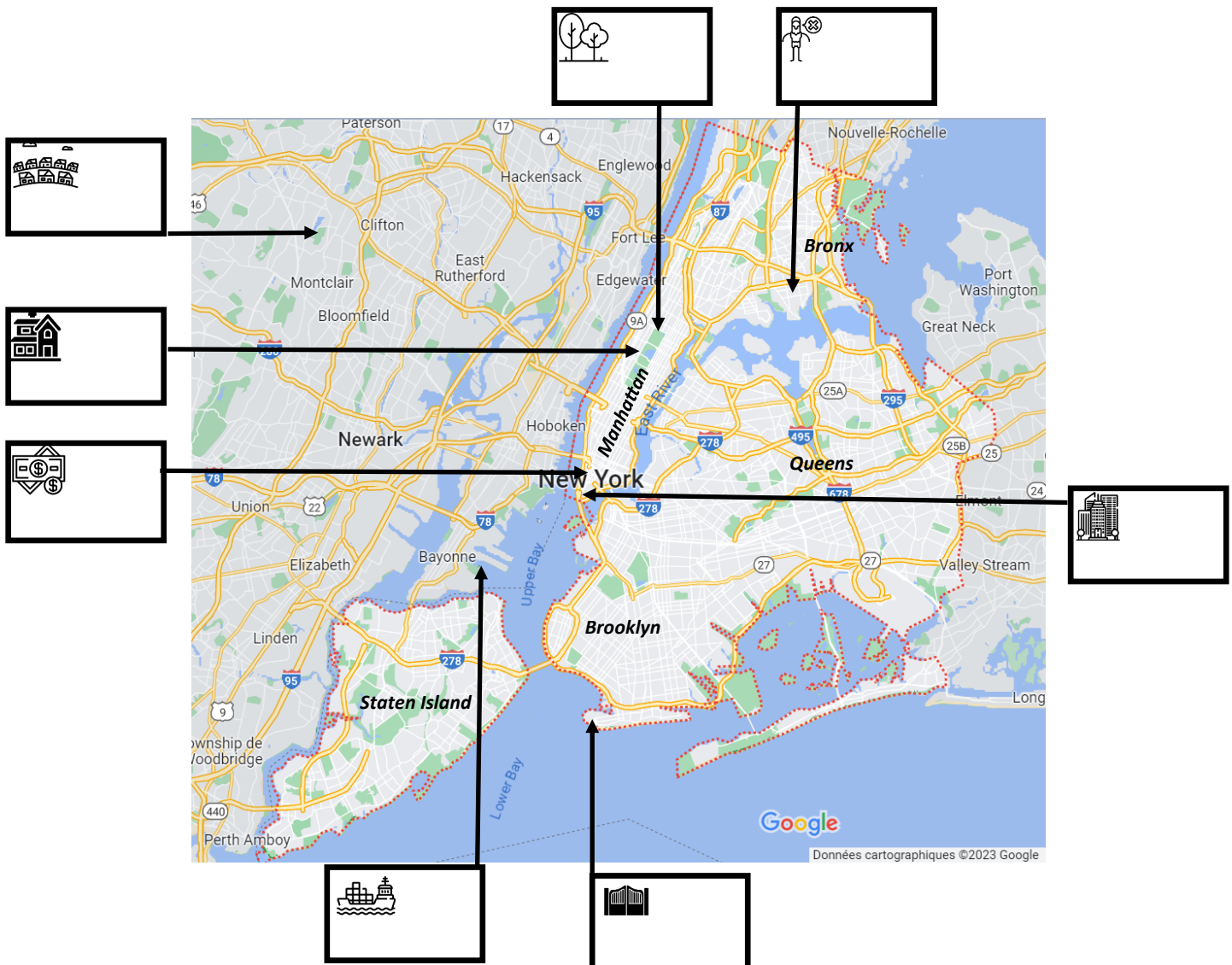
Consignes :

Observe les différents paysages. Reporte les numéros de chaque paysage dans la colonne du tableau correspondant à sa description. Reporte sur le plan de New-York les numéros des paysages pour les localiser.

Compétence :

Nommer, localiser et caractériser un lieu dans un espace géographique.

Port de New Jersey, New York	La Bourse de New York dans le quartier des affaires de Manhattan, New York	Gated Community (quartier résidentiel fermé), Brooklyn, New York	Central Park, New York	Une banlieue pavillonnaire de classe moyenne, Etat du New Jersey	Upper West Side, quartier résidentiel riche entre l'Hudson et Manhattan, New York	Central Business District ou quartier des affaires, Manhattan, New York	Ghetto (quartier dégradé où se concentre une population pauvre) Bronx, New York



plan : <https://www.google.fr/maps>

icônes : <https://www.flaticon.com/fr>



①

By Clément Bardot - Own work, CC BY 3.0, <https://commons.wikimedia.org/w/index.php?curid=6489551>



②

<https://goo.gl/maps/QsvkkGc94axRuw2S8>




③

<https://goo.gl/maps/cGF8GP7nQJz7NMZB9>



④

<https://goo.gl/maps/MrnLEw33PE1xHaiU7>




⑤

Par Jean-Christophe BENOIST — Travail personnel, CC BY 3.0, <https://commons.wikimedia.org/w/index.php?curid=19288958>



⑥

<https://goo.gl/maps/296DwakC98veUYCe7>



⑦




⑧

By Ed Yourdon from New York City, USA - Central Park foliage photo-walk, Nov 2009 - 10Uploaded by Ekabhishek, CC BY-SA 2.0, <https://commons.wikimedia.org/w/index.php?curid=9785576>

Par Maureen de Buffalo, USA — Flickr, CC BY 2.0, <https://commons.wikimedia.org/w/index.php?curid=2235015>

Activité : j'identifie des paysages de Nairobi (Kenya)



Consignes :

Regarde le clip vidéo de DAWUNI Rocky, "Nairobi", Branches of the same Tree, Aquarium Records, 2015.

Quels espaces ou paysages de Nairobi se rapprochent de ceux observés à New-York ?

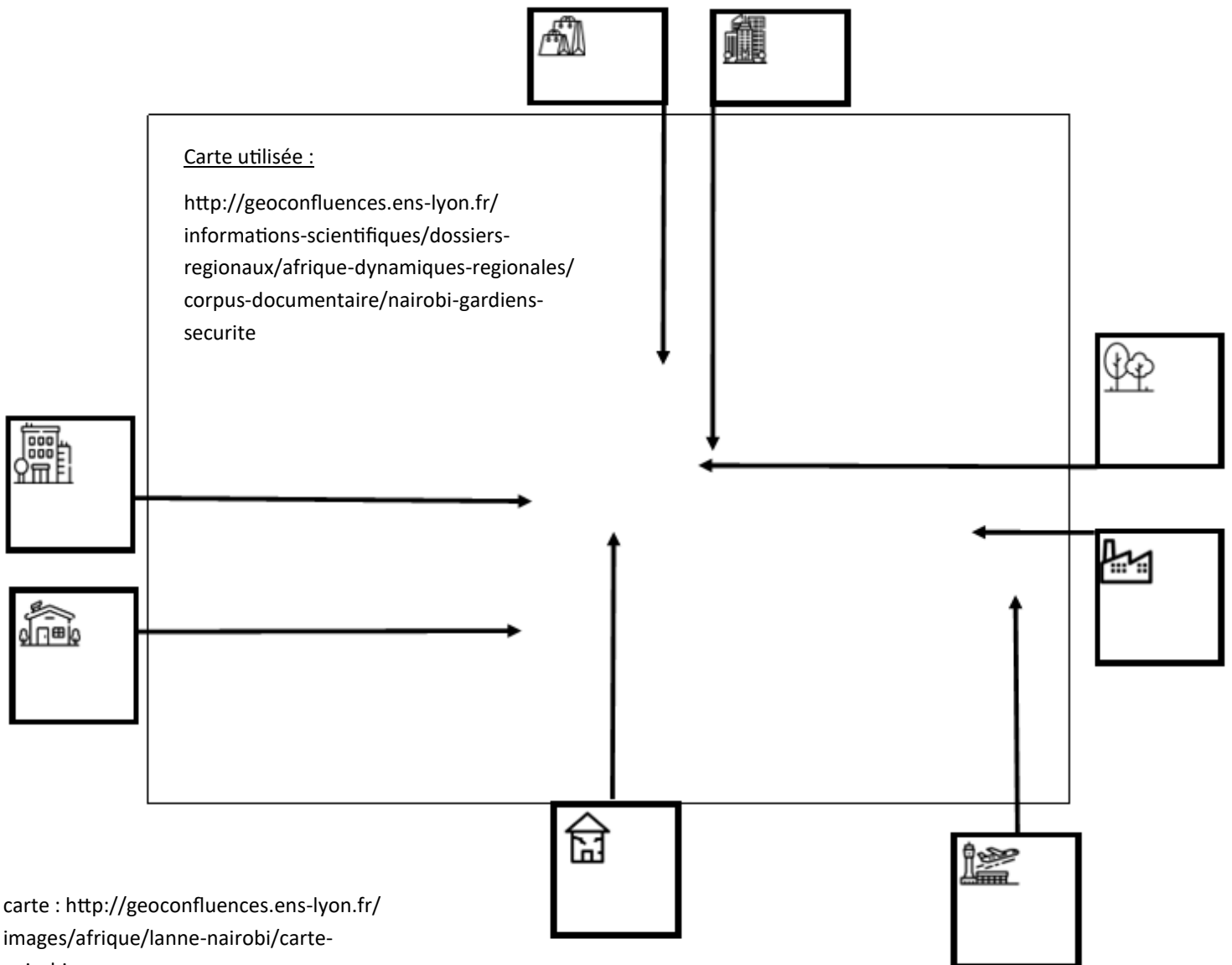
Quels espaces ou paysages différent ?

www.flaticon.com/fr/icones-gratuites/Clip-vidéo
icônes créées par Elias

Consignes :

Observe les différents paysages. Reporte les numéros de chaque paysage dans la colonne du tableau correspondant à sa description. Reporte sur le plan de Nairobi les numéros des paysages pour les localiser.

Quartier des affaires, au cœur de la capitale	Uhuru park, par cet jardin adjacent au quartier des	Bidonville de Kibera	Zone industrielle à proximité de l'aéroport	Aéroport international (6ème d'Afrique par	Centre commercial Westgate situé au Nord ouest du	Banlieue résidentielle de Jamhuri (classe	Banlieue résidentielle (population aisée)



carte : <http://geoconfluences.ens-lyon.fr/images/afrique/anne-nairobi/carte-nairobi.png>

icônes : <https://www.flaticon.com/fr>




By ninara - <https://www.flickr.com/photos/ninara/17297641976/>, CC BY 2.0, <https://commons.wikimedia.org/w/index.php?curid=41178654>



Google Earth, image satellite 23/08/2021, 1°20'4.67"S 36°45'57.49"E



By ninara - <https://www.flickr.com/photos/ninara/17297660486/>, CC BY 2.0, <https://commons.wikimedia.org/w/index.php?>



<https://goo.gl/maps/17aiZFj6DgEL4ZwU7>



By Trocaire - Flickr: Kibera19, CC BY 2.0, <https://commons.wikimedia.org/w/index.php?curid=28512736>



<https://goo.gl/maps/nSDKyLGNSYZSPRnu9>



Google Earth, image satellite 30/01/2023, 1°19'48.94"S 36°55'18.86"E



<https://goo.gl/maps/oeQ32nCUzd2Xwubq7>