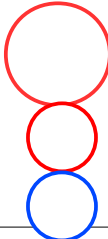




| A représenter  | Quelles informations sur la carte ?  | Comment les représenter ?   |
|--|--|---|
| <p>Une population très urbanisée<br/>(que va-t-on mettre sur la carte pour montrer que la France est un territoire urbanisé?)</p>                    | <p>-Repérez et citez les 10 premières agglomérations françaises.<br/><b>Paris Bordeaux Toulouse Lyon Marseille Nice, Lille, Strasbourg Rennes Nantes</b></p> <p>-Où se situent en majorité les villes avec une croissance forte et très forte? Une croissance faible ou négative ?<br/><b>La majorité des villes avec une croissance forte se trouve dans une moitié sud ouest de la France. Celles avec une croissance faible ou négative se trouve dans le nord est.</b></p>   |  |
| <p>Une répartition inégale de la population<br/>(que va-t-on mettre sur la carte pour montrer que la répartition sur le territoire est inégale?)</p> | <p>-Qu'est-ce que la « densité de population » ? Entourez sur la carte les régions les plus densément peuplées. Celles moyennement peuplées.<br/><b>Densité de population : nombre d'habitants au km2.</b></p> <p>-Dans quels types d'espaces la population se concentre-t-elle ?<br/><b>La population se concentre :</b></p> <ul style="list-style-type: none"> <li>-Le long des côtes (ouest et sud de la France)</li> <li>-Dans les grandes métropoles</li> <li>-Le long des frontières (italiennes, Belges, Allemandes)</li> <li>-Le long des fleuves.</li> </ul>  |  |
| <p>Des dynamiques spatiales<br/>(quelles sont les migrations ou mobilités spatiales à représenter?)</p>  | <p>-Qu'est-ce que les « migrations interdépartementales » ?<br/><b>Les migrations interdépartementales, c'est le déplacement de population d'un département à l'autre.</b></p> <p>-Tirez un trait qui sépare la France en deux : d'un côté les départements au solde positif, de l'autre ceux au solde négatif.<br/>Représentez le mouvement de population des départements au solde migratoire négatif vers les départements avec un solde migratoire positifs ?</p> <p>-L'Île de France attire-t-elle des habitants ? Lesquels ? Pourquoi peut-on parler de « plaque tournante » ?<br/><b>L'île de France perd globalement des habitants. Elle attire les étudiants et les jeunes adultes à la recherche d'un premier emploi. Mais elle perd des familles qui retournent dans leurs régions d'origine, et les retraités à la recherche d'un meilleur cadre de vie.</b></p> |  |

**Décrivez et expliquez la répartition et les dynamiques de population en France :**

**La répartition de la population, c'est la localisation de la population sur le territoire. La population se trouve concentrée dans les grandes métropoles, le long des fleuves, des littoraux et le long de certaines frontières (Alsace, Belgique, Italie).**

**La dynamique de la population, c'est les mouvements de population sur le territoire. Les populations quittent certains territoires (nord est, villes moyennes, espaces ruraux) pour se rendre vers les grandes métropoles et les littoraux ouest et sud.**

**Cela s'explique par la mondialisation : les grandes métropoles, et la partie sud-ouest de la France sont bien connectées à la mondialisation (échanges économiques) : il y a des emplois, contrairement aux espaces moins connectés (nord est, villes moyennes, espaces ruraux).**