
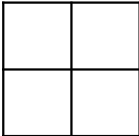
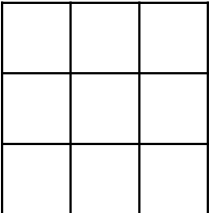
		
Motif 1	Motif 2	Motif 3	Motif 4	Motif 5


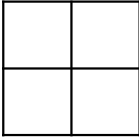
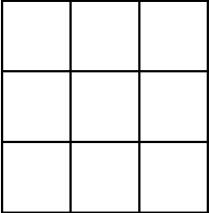
Continue la suite avec les motifs 4 et motifs 5.

Peux-tu écrire une règle qui permette de passer d'un motif à l'autre?

				
Motif 1	Motif 2	Motif 3	Motif 4	Motif 5

Continue la suite avec les motifs 4 et motifs 5.

Peux-tu écrire une règle qui permette de passer d'un motif à l'autre?

				
Motif 1	Motif 2	Motif 3	Motif 4	Motif 5

Continue la suite avec les motifs 4 et motifs 5.

Peux-tu écrire une règle qui permette de passer d'un motif à l'autre?

Que remarques-tu ? Explique pourquoi ?