

Q1

Quelle est la longueur du segment bleu mesurée avec cette règle cassée ?



... ul

Q2

Quelle est la longueur du segment bleu mesurée avec cette règle cassée ?



... ul

Q3

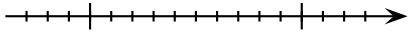
Quelle est la longueur du segment bleu mesurée avec cette règle cassée ?



... ul

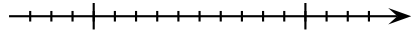
Q4

Complète.



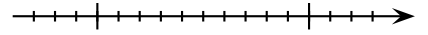
Q5

Complète.



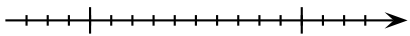
Q6

Complète.



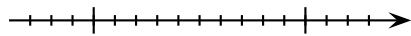
Q7

Complète.



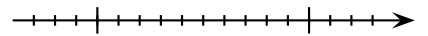
Q8

Complète.



Q9

Complète.



R 3

Réponse :

R 2

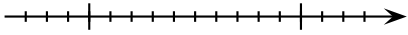
Réponse :

R 1

Réponse :

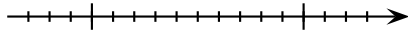
R 6

Réponse :



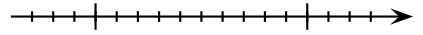
R 5

Réponse :



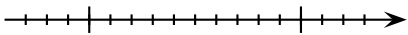
R 4

Réponse :



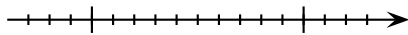
R 9

Réponse :



R 8

Réponse :



R 7

Réponse :

